

♥ Dogs and cats.

Dogs and cats (Chiens et chats)

Micheline et Jacques jouent ensemble à Dogs and cats (Une variante d'un jeu ancien appelé "Bulls and Cows" qui est l'ancêtre du célèbre Mastermind)


Micheline a choisi une combinaison de quatre chiffres (entre 0 et 9) et tente de la faire deviner à Jacques.

A chaque essai de Jacques, Micheline répond par un dessin : pour chaque chiffre bien placé, Micheline dessine un chien. Pour chaque chiffre mal placé, Micheline dessine un chat.

La position des dessins n'a aucune importance !

Voici le début de la partie, la combinaison est maintenant trouvable, à toi de jouer !


9431




1487



0634



4635



♥ Dogs and cats. - Correction -

