

## ♥ Dogs and cats.

### Dogs and cats (Chiens et chats)

Simba et Ahmad jouent ensemble à Dogs and cats (Une variante d'un jeu ancien appelé "Bulls and Cows" qui est l'ancêtre du célèbre Mastermind)


Simba a choisi une combinaison de quatre chiffres (entre 0 et 9) et tente de la faire deviner à Ahmad.

A chaque essai de Ahmad, Simba répond par un dessin : pour chaque chiffre bien placé, Simba dessine un chien. Pour chaque chiffre mal placé, Simba dessine un chat.

La position des dessins n'a aucune importance !

**Voici le début de la partie, la combinaison est maintenant trouvable, à toi de jouer !**


8728




8138



4798



8794



♥ Dogs and cats. - Correction -

