

♥ Dogs and cats.

Dogs and cats (Chiens et chats)

Clémence et Lucille jouent ensemble à Dogs and cats (Une variante d'un jeu ancien appelé "Bulls and Cows" qui est l'ancêtre du célèbre Mastermind)


Clémence a choisi une combinaison de quatre chiffres (entre 0 et 9) et tente de la faire deviner à Lucille.

A chaque essai de Lucille, Clémence répond par un dessin : pour chaque chiffre bien placé, Clémence dessine un chien. Pour chaque chiffre mal placé, Clémence dessine un chat.

La position des dessins n'a aucune importance !

Voici le début de la partie, la combinaison est maintenant trouvable, à toi de jouer !


9326




9682



6729



8923



♥ Dogs and cats. - Correction -

