

♥ Dogs and cats.

Dogs and cats (Chiens et chats)

Augustin et Nader jouent ensemble à Dogs and cats (Une variante d'un jeu ancien appelé "Bulls and Cows" qui est l'ancêtre du célèbre Mastermind)

Augustin a choisi une combinaison de quatre chiffres (entre 0 et 9) et tente de la faire deviner à Nader.

A chaque essai de Nader, Augustin répond par un dessin : pour chaque chiffre bien placé, Augustin dessine un chien. Pour chaque chiffre mal placé, Augustin dessine un chat.


La position des dessins n'a aucune importance !

Voici le début de la partie, la combinaison est maintenant trouvable, à toi de jouer !


5448




2161



9171



7961



♥ Dogs and cats. - Correction -

