

♥ Dogs and cats.

Dogs and cats (Chiens et chats)

Salma et Conchita jouent ensemble à Dogs and cats (Une variante d'un jeu ancien appelé "Bulls and Cows" qui est l'ancêtre du célèbre Mastermind)


Salma a choisi une combinaison de quatre chiffres (entre 0 et 9) et tente de la faire deviner à Conchita.

A chaque essai de Conchita, Salma répond par un dessin : pour chaque chiffre bien placé, Salma dessine un chien. Pour chaque chiffre mal placé, Salma dessine un chat.


La position des dessins n'a aucune importance !

Voici le début de la partie, la combinaison est maintenant trouvable, à toi de jouer !


9506




9657



2560



3096



♥ Dogs and cats. - Correction -

