

## ♥ Dogs and cats.

### Dogs and cats (Chiens et chats)

Fatma et Lucille jouent ensemble à Dogs and cats (Une variante d'un jeu ancien appelé "Bulls and Cows" qui est l'ancêtre du célèbre Mastermind)

Fatma a choisi une combinaison de quatre chiffres (entre 0 et 9) et tente de la faire deviner à Lucille.

A chaque essai de Lucille, Fatma répond par un dessin : pour chaque chiffre bien placé, Fatma dessine un chien. Pour chaque chiffre mal placé, Fatma dessine un chat.


La position des dessins n'a aucune importance !

**Voici le début de la partie, la combinaison est maintenant trouvable, à toi de jouer !**


3223




9040



9498



7149



♥ Dogs and cats. - Correction -

