

♥ Dogs and cats.

Dogs and cats (Chiens et chats)

Élise et Chus jouent ensemble à Dogs and cats (Une variante d'un jeu ancien appelé "Bulls and Cows" qui est l'ancêtre du célèbre Mastermind)

Élise a choisi une combinaison de quatre chiffres (entre 0 et 9) et tente de la faire deviner à Chus.

A chaque essai de Chus, Élise répond par un dessin : pour chaque chiffre bien placé, Élise dessine un chien. Pour chaque chiffre mal placé, Élise dessine un chat.


La position des dessins n'a aucune importance !

Voici le début de la partie, la combinaison est maintenant trouvable, à toi de jouer !


9502




6101



9961



7162



♥ Dogs and cats. - Correction -

