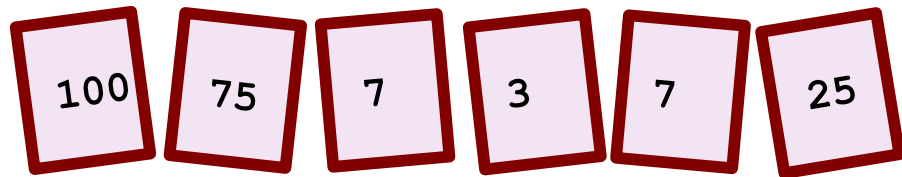


♥ Jouons ensemble.


Jeu 1 :

Le compte est bon ! et vous ?



Jeu 2:

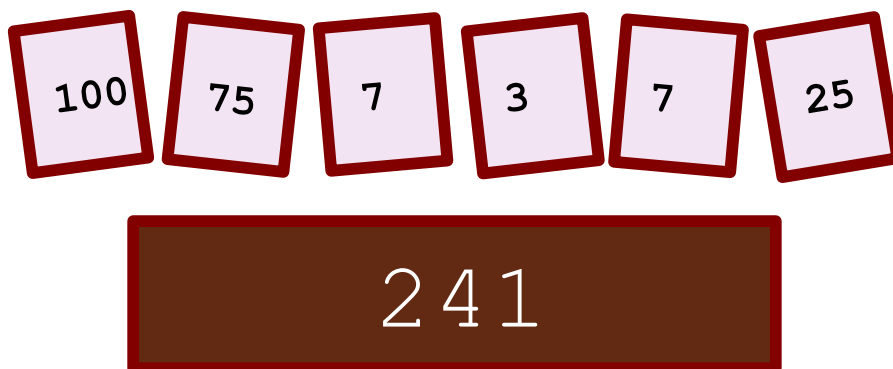
Trouve le mot Mathématique caché !



♥ Jouons ensemble.- Correction -

Jeu 1 :

Le compte est bon ! et vous ?




Mes solutions :

- $241 = 7 + (75 + 7 - 100/25) \times 3$
- $241 = 100 \times (75 - (7 + 7)) / 25 - 3$
- $241 = 7 + (7 - 100/25) \times (75 + 3)$

Jeu 2:

Trouve le mot Mathématique caché !



La solution : COSINUS

Dans un triangle rectangle, le cosinus d'un angle est le rapport de la longueur du côté adjacent par la longueur de l'hypoténuse.