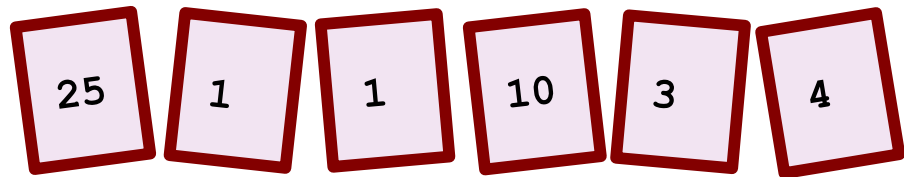


## ♥ Jouons ensemble.


### Jeu 1 :

Le compte est bon ! et vous ?



### Jeu 2:

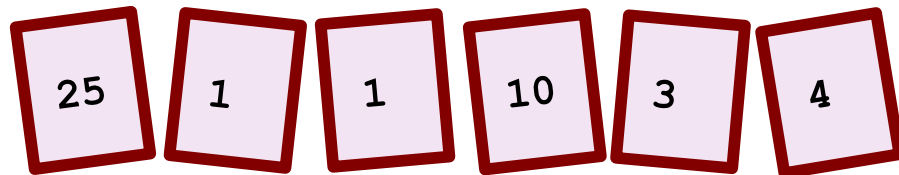
Trouve le mot Mathématique caché !



## ♥ Jouons ensemble.- Correction -

### Jeu 1 :

Le compte est bon ! et vous ?




### Mes solutions :

- $418 = (25+4\times 3+1)\times(10+1)$
- $418 = 1+3\times((25+10)\times 4-1)$
- $418 = (10+1)\times(25+4\times 3+1)$
- $418 = (25+10)\times 4\times 3-(1+1)$
- $418 = (10\times(25-4)-1)\times(3-1)$
- $418 = 3\times((25+10)\times 4-1)+1$
- $418 = (3-1)\times(10\times(25-4)-1)$

### Jeu 2:

Trouve le mot Mathématique caché !



**La solution : DIAMÈTRE**

[Les éléments de géométrie](#) sont étudiés au cycle 3