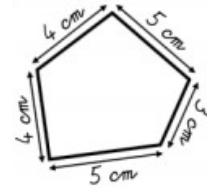


## Périmètre d'une figure

Calculer (calculer avec des nombres décimaux, de manière exacte ou approchée, en utilisant des stratégies ou des techniques appropriées). Mener une démarche scientifique ou technologique, résoudre des problèmes simples.

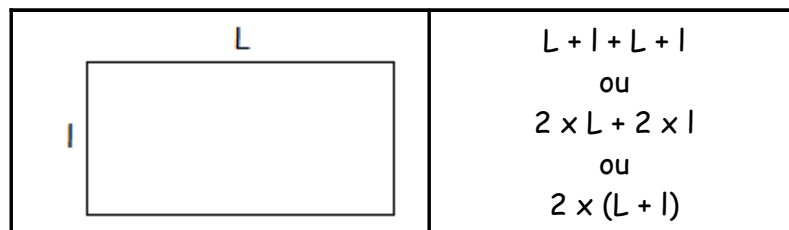
Le périmètre d'une figure est la longueur de son contour.

Exemple : Calcule le périmètre de cette figure.




Pour calculer le périmètre de certaines figures particulières, on peut utiliser une formule.

### PÉRIMÈTRE D'UN RECTANGLE



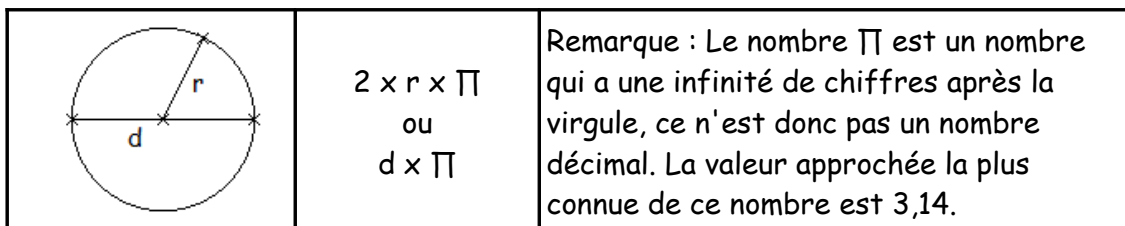
Exemple : Calcule le périmètre d'un rectangle de 5 cm de largeur et de 7 cm de longueur.

### PÉRIMÈTRE D'UN CARRÉ



Exemple : Calcule le périmètre d'un carré de 5 cm de côté.

### PÉRIMÈTRE D'UN CERCLE



- Exemples :
1. Calcule le périmètre d'un cercle de 5 cm de rayon.
  2. Calcule le périmètre d'un cercle de 8 cm de diamètre.