

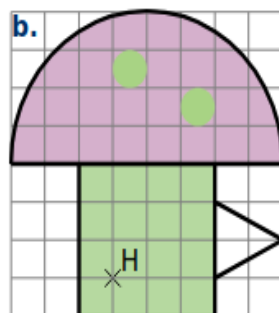
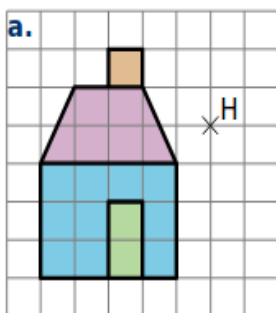
Devoir de Mathématiques n° 15 (5ème)

Exercice 1

Ranger par ordre décroissant ces grandes dates de la civilisation romaine.




Exercice 2



Refais les figures proprement sur ta copie, et pour chacune d'entre elles, trace son symétrique par rapport au point H.

Exercice 3



L'exercice vu sur les réseaux

SOLVE IF YOU CAN

3	2	=	7
5	4	=	23
7	6	=	47
9	8	=	79
10	9	=	?