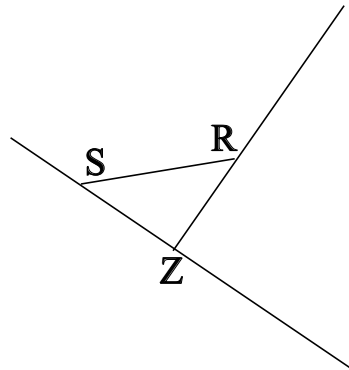


♥ Éléments de géométrie.

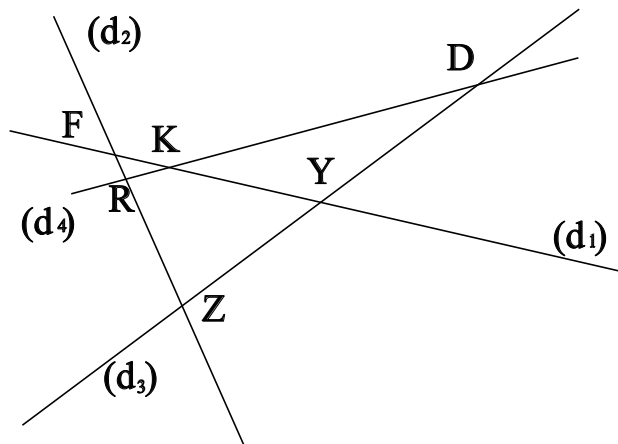
Exercice 1 :

Dans le dessin ci-dessous, trois objets géométriques sont tracés, sauriez-vous dire lesquels, en respectant soigneusement les notations ?



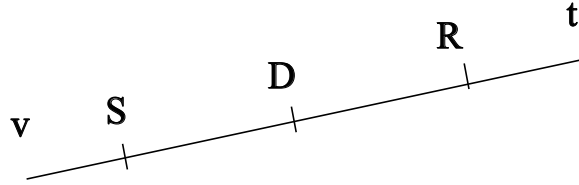
Exercice 2 :

Dans le dessin suivant, R est le point d'intersection des droites (d_4) et (d_2) . Ecrire 5 phrases similaires avec les points D, K, Z, F et Y.



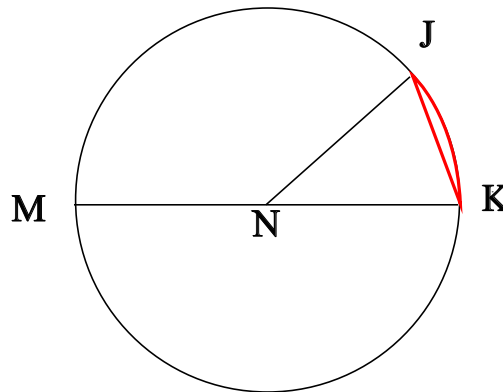
♥ Éléments de géométrie.

Exercice 3 : Compléter avec \in ou \notin



- R (SR)
- D (SD)
- D (RD)
- D [Rt)
- D [Sv)
- R [DS]

Exercice 4 : En observant le dessin ci-dessous, compléter les phrases avec les étiquettes proposées.



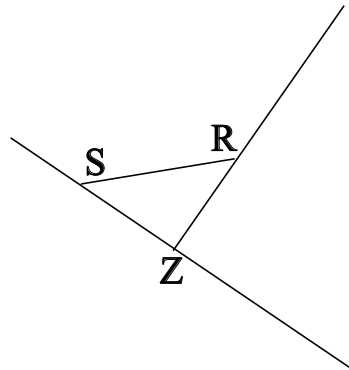
- | | | | |
|----------------------|------------------------|------------------------|----------------------|
| un rayon du cercle. | le rayon du cercle. | un arc de cercle. | une corde du cercle. |
| le centre du cercle. | le diamètre du cercle. | un diamètre du cercle. | |

Le segment [MK] est . Le segment [NK] est . La longueur NM est . La longueur NJ est . La longueur MK est . Le segment [NJ] est . Le point N est . Le segment [KJ] est . La partie du cercle colorée, qu'on note \widehat{KJ} est . La longueur [NM] est . La longueur NK est .

♥ Éléments de géométrie - Correction -

Exercice 1 :

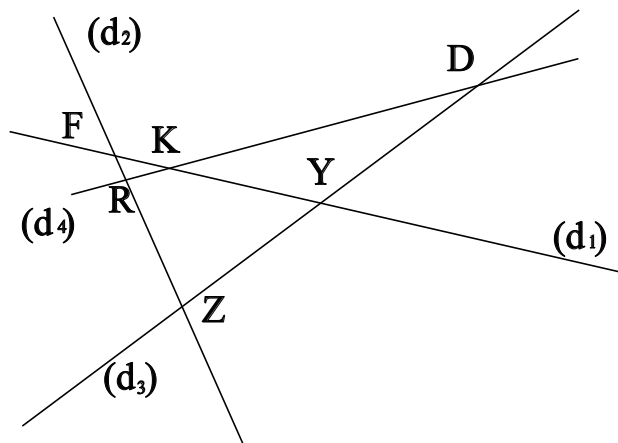
Dans le dessin ci-dessous, trois objets géométriques sont tracés, sauriez-vous dire lesquels, en respectant soigneusement les notations ?



On a tracé :

- Le segment $[SR]$.
- La droite (SZ) .
- La demi-droite $[ZR)$.

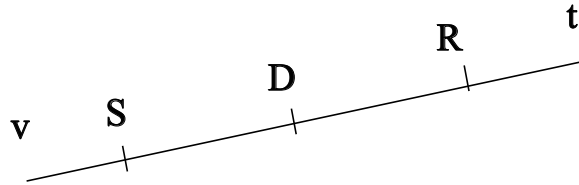
Exercice 2 :



- R est le point d'intersection des droites (d_4) et (d_2)
- D est le point d'intersection des droites (d_4) et (d_3)
- K est le point d'intersection des droites (d_4) et (d_1)
- Z est le point d'intersection des droites (d_2) et (d_3)
- F est le point d'intersection des droites (d_2) et (d_1)
- Y est le point d'intersection des droites (d_3) et (d_1)

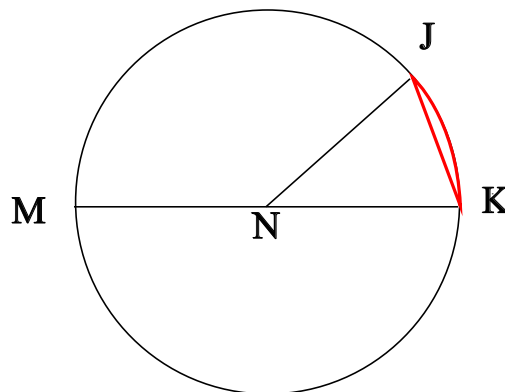
♥ Éléments de géométrie - Correction -

Exercice 3 : Compléter avec \in ou \notin



- $R \in (SR)$
- $D \in (SD)$
- $D \in (RD)$
- $D \notin [Rt)$
- $D \notin [Sv)$
- $R \notin [DS]$

Exercice 4 : En observant le dessin ci-dessous, compléter les phrases avec les étiquettes proposées.



Le segment [MK] est un diamètre du cercle. Le segment [NK] est un rayon du cercle. La longueur NM est le rayon du cercle. La longueur NJ est le rayon du cercle. La longueur MK est le diamètre du cercle. Le segment [NJ] est un rayon du cercle. Le point N est le centre du cercle. Le segment [KJ] est une corde du cercle. La partie du cercle colorée, qu'on note \widehat{KJ} est un arc de cercle. La longueur [NM] est un rayon du cercle. La longueur NK est le rayon du cercle.

Remarque : Comme le segment [KJ], le diamètre [MK] est aussi une corde (C'est même la plus grande corde du cercle !) Et le point N, qui est le centre du cercle est aussi le milieu du diamètre [MK].