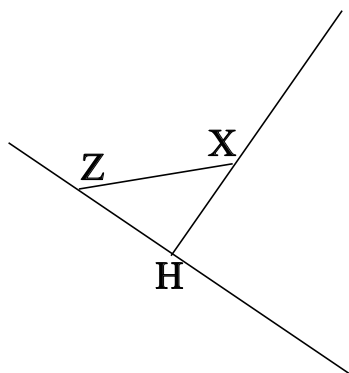


## ♥ Éléments de géométrie.

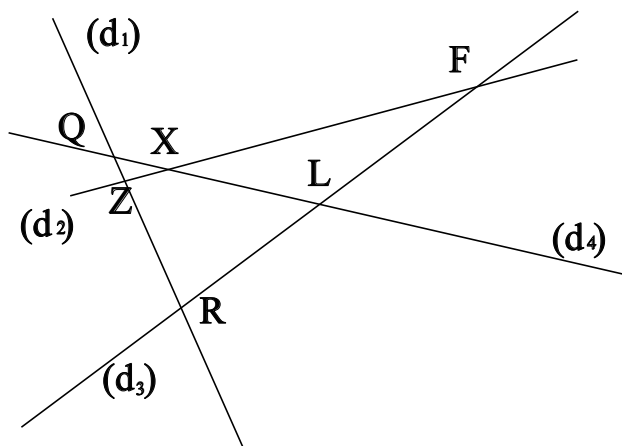
### Exercice 1 :

Dans le dessin ci-dessous, trois objets géométriques sont tracés, sauriez-vous dire lesquels, en respectant soigneusement les notations ?



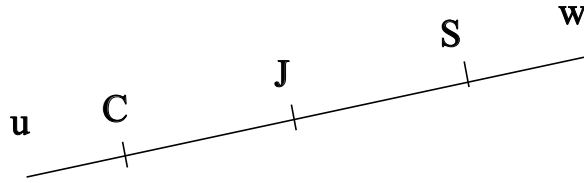
### Exercice 2 :

Dans le dessin suivant, Z est le point d'intersection des droites  $(d_2)$  et  $(d_1)$ . Ecrire 5 phrases similaires avec les points F, X, R, Q et L.



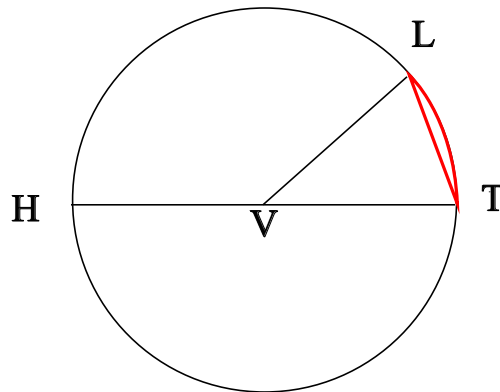
## ♥ Éléments de géométrie.

**Exercice 3 : Compléter avec  $\in$  ou  $\notin$**



- C ..... [Jw]
- S ..... (SC)
- J ..... [SC]
- C ..... [CJ]
- C ..... [JS]
- S ..... [JC]

**Exercice 4 : En observant le dessin ci-dessous, compléter les phrases avec les étiquettes proposées.**



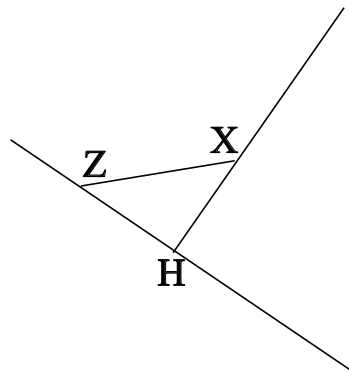
- |                        |                     |                        |                     |
|------------------------|---------------------|------------------------|---------------------|
| une corde du cercle.   | un rayon du cercle. | le centre du cercle.   | le rayon du cercle. |
| un diamètre du cercle. | un arc de cercle.   | le diamètre du cercle. |                     |

Le segment [TL] est . Le segment [VL] est . Le point V est . La longueur VL est . La longueur HT est . La longueur VH est . Le segment [HT] est . La longueur VT est . Le segment [VT] est . La partie du cercle colorée, qu'on note  $\widehat{TL}$  est .

## ♥ Eléments de géométrie - Correction -

### Exercice 1 :

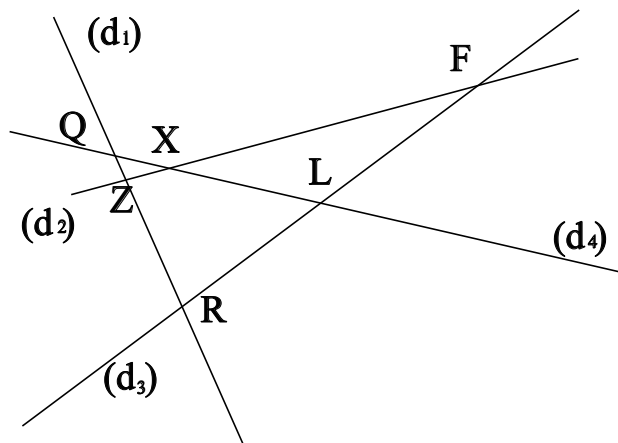
Dans le dessin ci-dessous, trois objets géométriques sont tracés, sauriez-vous dire lesquels, en respectant soigneusement les notations ?



On a tracé :

- Le segment  $[ZX]$ .
- La droite  $(ZH)$ .
- La demi-droite  $[HX)$ .

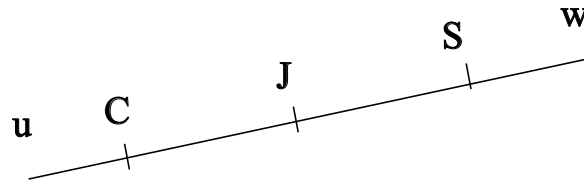
### Exercice 2 :



- Z est le point d'intersection des droites  $(d_2)$  et  $(d_1)$
- F est le point d'intersection des droites  $(d_2)$  et  $(d_3)$
- X est le point d'intersection des droites  $(d_2)$  et  $(d_4)$
- R est le point d'intersection des droites  $(d_1)$  et  $(d_3)$
- Q est le point d'intersection des droites  $(d_1)$  et  $(d_4)$
- L est le point d'intersection des droites  $(d_3)$  et  $(d_4)$

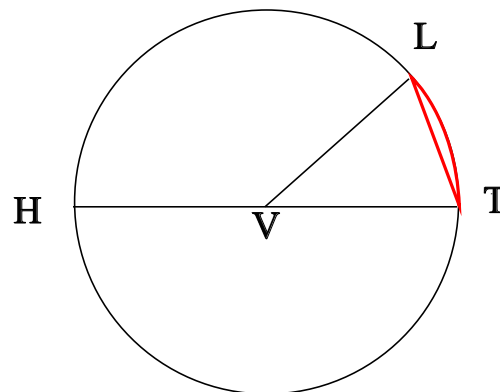
## ♥ Éléments de géométrie - Correction -

**Exercice 3 : Compléter avec  $\in$  ou  $\notin$**



- $C \notin [Jw]$
- $S \in (SC)$
- $J \in [SC]$
- $C \in [CJ]$
- $C \notin [JS]$
- $S \notin [JC]$

**Exercice 4 : En observant le dessin ci-dessous, compléter les phrases avec les étiquettes proposées.**



Le segment [TL] est une corde du cercle. Le segment [VL] est un rayon du cercle. Le point V est le centre du cercle. La longueur VL est le rayon du cercle. La longueur HT est le diamètre du cercle. La longueur VH est le rayon du cercle. Le segment [HT] est un diamètre du cercle. La longueur VT est le rayon du cercle. Le segment [VT] est un rayon du cercle. La partie du cercle colorée, qu'on note  $\widehat{TL}$  est un arc de cercle.

Remarque : Comme le segment [TL], le diamètre [HT] est aussi une corde (C'est même la plus grande corde du cercle !) Et le point V, qui est le centre du cercle est aussi le milieu du diamètre [HT].