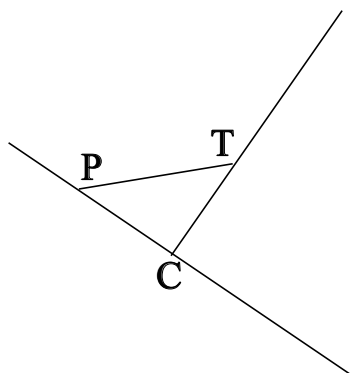


♥ Éléments de géométrie.

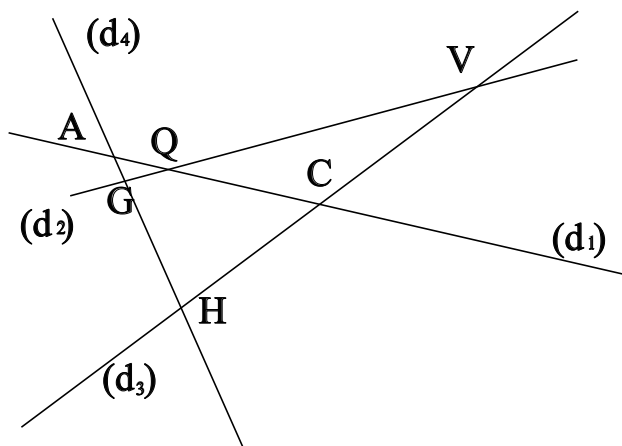
Exercice 1 :

Dans le dessin ci-dessous, trois objets géométriques sont tracés, sauriez-vous dire lesquels, en respectant soigneusement les notations ?



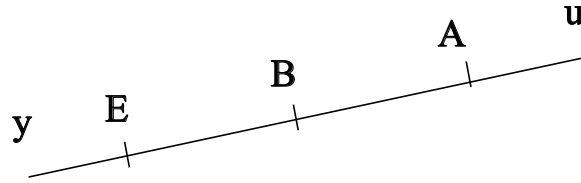
Exercice 2 :

Dans le dessin suivant, G est le point d'intersection des droites (d_2) et (d_4) . Ecrire 5 phrases similaires avec les points V, Q, H, A et C.



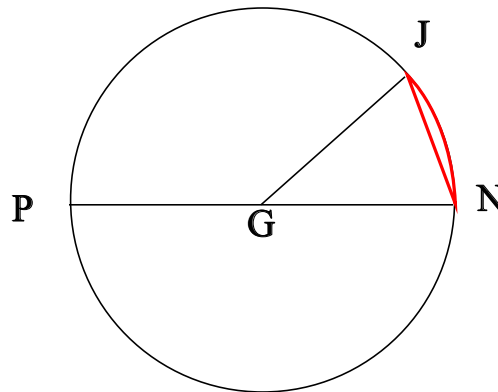
♥ Éléments de géométrie.

Exercice 3 : Compléter avec \in ou \notin



- E [BA]
- E (AE)
- E [Bu]
- A [BE]
- B [BA]
- E (AB)

Exercice 4 : En observant le dessin ci-dessous, compléter les phrases avec les étiquettes proposées.



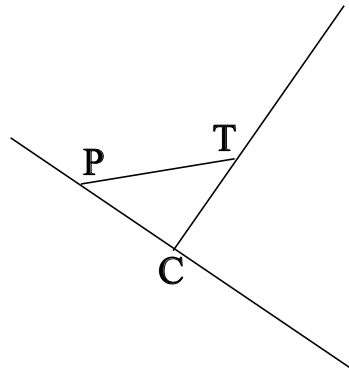
- | | | | |
|---------------------|------------------------|------------------------|----------------------|
| un arc de cercle. | le centre du cercle. | le diamètre du cercle. | une corde du cercle. |
| le rayon du cercle. | un diamètre du cercle. | un rayon du cercle. | |

La longueur PN est . La longueur GJ est . La partie du cercle colorée, qu'on note \widehat{NJ} est .
 Le segment [NJ] est . Le segment [GN] est . Le point G est . La longueur GN est . Le segment [GJ] est . Le segment [PN] est . La longueur GP est .

♥ Éléments de géométrie - Correction -

Exercice 1 :

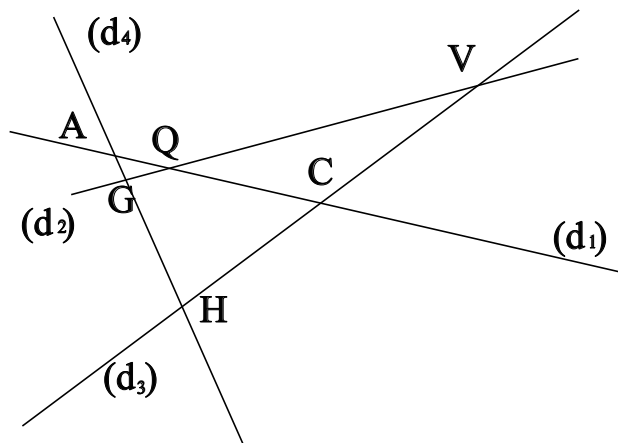
Dans le dessin ci-dessous, trois objets géométriques sont tracés, sauriez-vous dire lesquels, en respectant soigneusement les notations ?



On a tracé :

- Le segment [PT].
- La droite (PC).
- La demi-droite [CT).

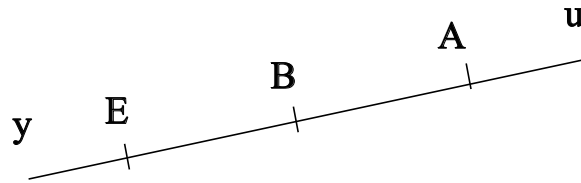
Exercice 2 :



- G est le point d'intersection des droites (d_2) et (d_4)
- V est le point d'intersection des droites (d_2) et (d_3)
- Q est le point d'intersection des droites (d_2) et (d_1)
- H est le point d'intersection des droites (d_4) et (d_3)
- A est le point d'intersection des droites (d_4) et (d_1)
- C est le point d'intersection des droites (d_3) et (d_1)

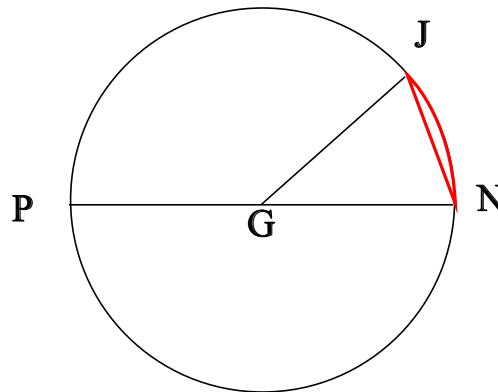
♥ Éléments de géométrie - Correction -

Exercice 3 : Compléter avec \in ou \notin



- $E \notin [BA]$
- $E \in (AE)$
- $E \notin [Bu]$
- $A \notin [BE]$
- $B \in [BA]$
- $E \in (AB)$

Exercice 4 : En observant le dessin ci-dessous, compléter les phrases avec les étiquettes proposées.



La longueur PN est le diamètre du cercle. La longueur GJ est le rayon du cercle. La partie du cercle colorée, qu'on note \widehat{NJ} est un arc de cercle. Le segment [NJ] est une corde du cercle. Le segment [GN] est un rayon du cercle. Le point G est le centre du cercle. La longueur GN est le rayon du cercle. Le segment [GJ] est un rayon du cercle. Le segment [PN] est un diamètre du cercle. La longueur GP est le rayon du cercle.

Remarque : Comme le segment [NJ], le diamètre [PN] est aussi une corde (C'est même la plus grande corde du cercle !) Et le point G, qui est le centre du cercle est aussi le milieu du diamètre [PN].