

## ♥ Dogs and cats.

### Dogs and cats (Chiens et chats)

Novia et Sylvie jouent ensemble à Dogs and cats (Une variante d'un jeu ancien appelé "Bulls and Cows" qui est l'ancêtre du célèbre Mastermind)

Novia a choisi une combinaison de quatre chiffres (entre 0 et 9) et tente de la faire deviner à Sylvie.

A chaque essai de Sylvie, Novia répond par un dessin : pour chaque chiffre bien placé, Novia dessine un chien. Pour chaque chiffre mal placé, Novia dessine un chat.


La position des dessins n'a aucune importance !

**Voici le début de la partie, la combinaison est maintenant trouvable, à toi de jouer !**


3325




4261



4298



8269



♥ Dogs and cats. - Correction -

