

♥ Dogs and cats.

Dogs and cats (Chiens et chats)

Chloé et Luc jouent ensemble à Dogs and cats (Une variante d'un jeu ancien appelé "Bulls and Cows" qui est l'ancêtre du célèbre Mastermind)


Chloé a choisi une combinaison de quatre chiffres (entre 0 et 9) et tente de la faire deviner à Luc.

A chaque essai de Luc, Chloé répond par un dessin : pour chaque chiffre bien placé, Chloé dessine un chien. Pour chaque chiffre mal placé, Chloé dessine un chat.

La position des dessins n'a aucune importance !

Voici le début de la partie, la combinaison est maintenant trouvable, à toi de jouer !


0149




0092



0381



0468



♥ Dogs and cats. - Correction -

