

## ♥ Dogs and cats.

### Dogs and cats (Chiens et chats)

Marcelle et Mohammed jouent ensemble à Dogs and cats (Une variante d'un jeu ancien appelé "Bulls and Cows" qui est l'ancêtre du célèbre Mastermind)


Marcelle a choisi une combinaison de quatre chiffres (entre 0 et 9) et tente de la faire deviner à Mohammed.

A chaque essai de Mohammed, Marcelle répond par un dessin : pour chaque chiffre bien placé, Marcelle dessine un chien. Pour chaque chiffre mal placé, Marcelle dessine un chat.


La position des dessins n'a aucune importance !

**Voici le début de la partie, la combinaison est maintenant trouvable, à toi de jouer !**


7950



0907



7009



♥ Dogs and cats. - Correction -

