

♥ Dogs and cats.

Dogs and cats (Chiens et chats)

Farid et Adélaïde jouent ensemble à Dogs and cats (Une variante d'un jeu ancien appelé "Bulls and Cows" qui est l'ancêtre du célèbre Mastermind)


Farid a choisi une combinaison de quatre chiffres (entre 0 et 9) et tente de la faire deviner à Adélaïde.

A chaque essai de Adélaïde, Farid répond par un dessin : pour chaque chiffre bien placé, Farid dessine un chien. Pour chaque chiffre mal placé, Farid dessine un chat.

La position des dessins n'a aucune importance !

Voici le début de la partie, la combinaison est maintenant trouvable, à toi de jouer !


6132




6389



1120



1452



♥ Dogs and cats. - Correction -

