

♥ Dogs and cats.

Dogs and cats (Chiens et chats)

Conchita et Baha jouent ensemble à Dogs and cats (Une variante d'un jeu ancien appelé "Bulls and Cows" qui est l'ancêtre du célèbre Mastermind)


Conchita a choisi une combinaison de quatre chiffres (entre 0 et 9) et tente de la faire deviner à Baha.

A chaque essai de Baha, Conchita répond par un dessin : pour chaque chiffre bien placé, Conchita dessine un chien. Pour chaque chiffre mal placé, Conchita dessine un chat.

La position des dessins n'a aucune importance !

Voici le début de la partie, la combinaison est maintenant trouvable, à toi de jouer !


7486




7653



4246



1427



♥ Dogs and cats. - Correction -

