

♥ Dogs and cats.

Dogs and cats (Chiens et chats)

Valérie et Aristide jouent ensemble à Dogs and cats (Une variante d'un jeu ancien appelé "Bulls and Cows" qui est l'ancêtre du célèbre Mastermind)


Valérie a choisi une combinaison de quatre chiffres (entre 0 et 9) et tente de la faire deviner à Aristide.

A chaque essai de Aristide, Valérie répond par un dessin : pour chaque chiffre bien placé, Valérie dessine un chien. Pour chaque chiffre mal placé, Valérie dessine un chat.


La position des dessins n'a aucune importance !

Voici le début de la partie, la combinaison est maintenant trouvable, à toi de jouer !

7273




7378



7923



3271



♥ Dogs and cats. - Correction -

