

♥ Dogs and cats.

Dogs and cats (Chiens et chats)

Sébastien et Claudine jouent ensemble à Dogs and cats (Une variante d'un jeu ancien appelé "Bulls and Cows" qui est l'ancêtre du célèbre Mastermind)


Sébastien a choisi une combinaison de quatre chiffres (entre 0 et 9) et tente de la faire deviner à Claudine.

A chaque essai de Claudine, Sébastien répond par un dessin : pour chaque chiffre bien placé, Sébastien dessine un chien. Pour chaque chiffre mal placé, Sébastien dessine un chat.

La position des dessins n'a aucune importance !

Voici le début de la partie, la combinaison est maintenant trouvable, à toi de jouer !


3804




4633



7148



7418



♥ Dogs and cats. - Correction -

