

## ♥ Dogs and cats.

### Dogs and cats (Chiens et chats)

Nathalie et Lucien jouent ensemble à Dogs and cats (Une variante d'un jeu ancien appelé "Bulls and Cows" qui est l'ancêtre du célèbre Mastermind)

Nathalie a choisi une combinaison de quatre chiffres (entre 0 et 9) et tente de la faire deviner à Lucien.

A chaque essai de Lucien, Nathalie répond par un dessin : pour chaque chiffre bien placé, Nathalie dessine un chien. Pour chaque chiffre mal placé, Nathalie dessine un chat.


La position des dessins n'a aucune importance !

**Voici le début de la partie, la combinaison est maintenant trouvable, à toi de jouer !**


3438




2489



3987



3819



♥ Dogs and cats. - Correction -

