

♥ Dogs and cats.

Dogs and cats (Chiens et chats)

Georgette et Alphonsine jouent ensemble à Dogs and cats (Une variante d'un jeu ancien appelé "Bulls and Cows" qui est l'ancêtre du célèbre Mastermind)


Georgette a choisi une combinaison de quatre chiffres (entre 0 et 9) et tente de la faire deviner à Alphonsine.

A chaque essai de Alphonsine, Georgette répond par un dessin : pour chaque chiffre bien placé, Georgette dessine un chien. Pour chaque chiffre mal placé, Georgette dessine un chat.

La position des dessins n'a aucune importance !

Voici le début de la partie, la combinaison est maintenant trouvable, à toi de jouer !


7122




1512



6872



0762



♥ Dogs and cats. - Correction -

