

♥ Dogs and cats.

Dogs and cats (Chiens et chats)

Aurore et Aude jouent ensemble à Dogs and cats (Une variante d'un jeu ancien appelé "Bulls and Cows" qui est l'ancêtre du célèbre Mastermind)


Aurore a choisi une combinaison de quatre chiffres (entre 0 et 9) et tente de la faire deviner à Aude.

A chaque essai de Aude, Aurore répond par un dessin : pour chaque chiffre bien placé, Aurore dessine un chien. Pour chaque chiffre mal placé, Aurore dessine un chat.

La position des dessins n'a aucune importance !

Voici le début de la partie, la combinaison est maintenant trouvable, à toi de jouer !


5073




4930



4257



7956



♥ Dogs and cats. - Correction -

