

## ♥ Dogs and cats.

### Dogs and cats (Chiens et chats)

Aimé et Cerise jouent ensemble à Dogs and cats (Une variante d'un jeu ancien appelé "Bulls and Cows" qui est l'ancêtre du célèbre Mastermind)


Aimé a choisi une combinaison de quatre chiffres (entre 0 et 9) et tente de la faire deviner à Cerise.

A chaque essai de Cerise, Aimé répond par un dessin : pour chaque chiffre bien placé, Aimé dessine un chien. Pour chaque chiffre mal placé, Aimé dessine un chat.

La position des dessins n'a aucune importance !

**Voici le début de la partie, la combinaison est maintenant trouvable, à toi de jouer !**


8267




8623



6248



6387



♥ Dogs and cats. - Correction -

