

♥ Dogs and cats.

Dogs and cats (Chiens et chats)

Georgette et Vienne jouent ensemble à Dogs and cats (Une variante d'un jeu ancien appelé "Bulls and Cows" qui est l'ancêtre du célèbre Mastermind)


Georgette a choisi une combinaison de quatre chiffres (entre 0 et 9) et tente de la faire deviner à Vienne.

A chaque essai de Vienne, Georgette répond par un dessin : pour chaque chiffre bien placé, Georgette dessine un chien. Pour chaque chiffre mal placé, Georgette dessine un chat.


La position des dessins n'a aucune importance !

Voici le début de la partie, la combinaison est maintenant trouvable, à toi de jouer !


4283




4663



4686



6683



♥ Dogs and cats. - Correction -

