


♥ Jouons ensemble.


Jeu 1 :

Le compte est bon ! et vous ?



Jeu 2:

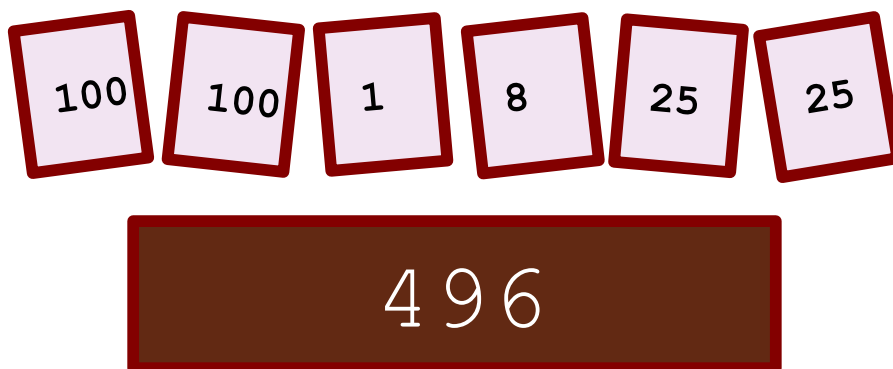
Trouve le mot Mathématique caché !



♥ Jouons ensemble.- Correction -

Jeu 1 :

Le compte est bon ! et vous ?




Mes solutions :

- $496 = (8 - 100/25) \times (100 + 25 - 1)$
- $496 = 100 \times (100 + 25 + 1) / 25 - 8$
- $496 = 100 \times (100 + 25 - 1) / 25$

Jeu 2:

Trouve le mot Mathématique caché !



La solution : SINUS

Dans un triangle rectangle, le sinus d'un angle est le rapport de la longueur du côté opposé par la longueur de l'hypoténuse.