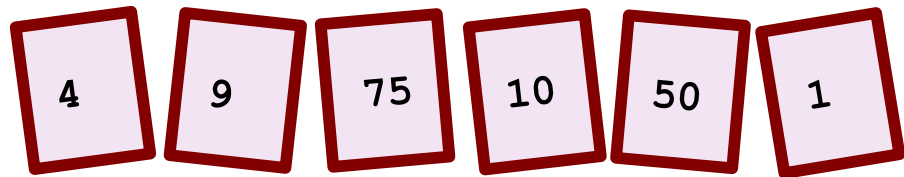


♥ Jouons ensemble.


Jeu 1 :

Le compte est bon ! et vous ?



Jeu 2:

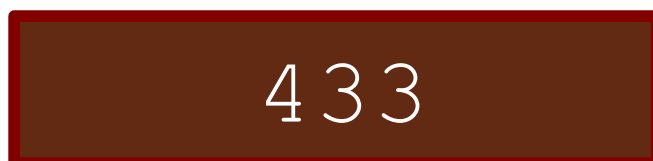
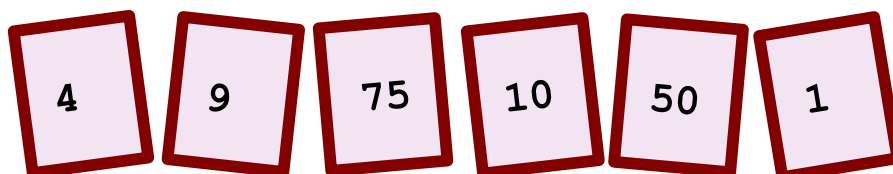
Trouve le mot Mathématique caché !



♥ Jouons ensemble.- Correction -

Jeu 1 :

Le compte est bon ! et vous ?




Mes solutions :

- $433 = 75 + (50 - 4) \times (9 - 1) - 10$
- $433 = 50 \times 10 + 9 - (75 + 1)$
- $433 = 50 \times 9 - (75 + 10) / (4 + 1)$
- $433 = 10 + 9 \times (50 + 1 - 4)$

Jeu 2:

Trouve le mot Mathématique caché !



La solution : COSINUS

Dans un triangle rectangle, le cosinus d'un angle est le rapport de la longueur du côté adjacent par la longueur de l'hypoténuse.