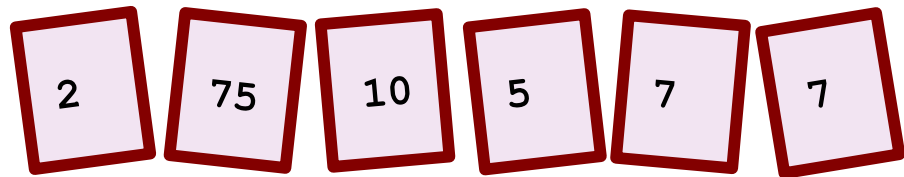


♥ Jouons ensemble.


Jeu 1 :

Le compte est bon ! et vous ?



Jeu 2:

Trouve le mot Mathématique caché !



♥ Jouons ensemble.- Correction -

Jeu 1 :

Le compte est bon ! et vous ?




Mes solutions :

- $664 = 7 + (7 + 10/5) \times (75 - 2)$
- $664 = 7 + (75 - 10/5) \times (7 + 2)$
- $664 = 7 + 7 + (75 - 10) \times 5 \times 2$
- $664 = (7 + (75 - 10) \times 5) \times 2$
- $664 = 7 + 7 + 10 \times (75 - 5 \times 2)$
- $664 = 75 \times 10 - (7 \times (7 + 5) + 2)$

Jeu 2:

Trouve le mot Mathématique caché !



La solution : CERCLE

[Les éléments de géométrie](#) sont étudiés au cycle 3