


♥ Jouons ensemble.


Jeu 1 :

Le compte est bon ! et vous ?



Jeu 2:

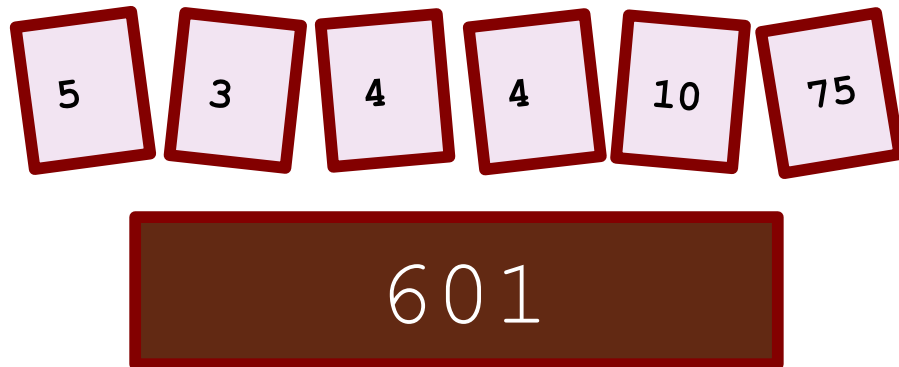
Trouve le mot Mathématique caché !



♥ Jouons ensemble.- Correction -

Jeu 1 :

Le compte est bon ! et vous ?




Mes solutions :

- $601 = 75 \times 10 \times 4 / 5 + 4 - 3$
- $601 = 4 / 4 + 75 \times (10 + 3 - 5)$
- $601 = (4 + 10 \times (75 + 5) \times 3) / 4$
- $601 = 4 / 4 + 75 \times (5 + 3)$
- $601 = 4 / 4 + 10 \times (75 - 5 \times 3)$
- $601 = 4 + 75 \times 10 \times 4 / 5 - 3$
- $601 = 75 \times (4 + 4) + 3 - 10 / 5$

Jeu 2:

Trouve le mot Mathématique caché !



La solution : TANGENTE

Dans un triangle rectangle, la tangente d'un angle est le rapport de la longueur du côté opposé par la longueur du côté adjacent.