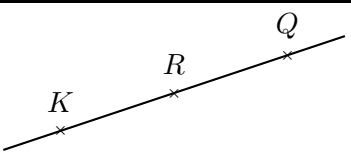
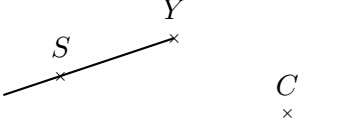
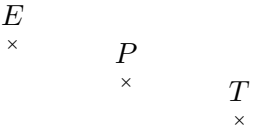

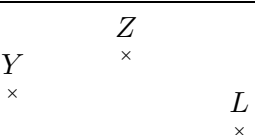


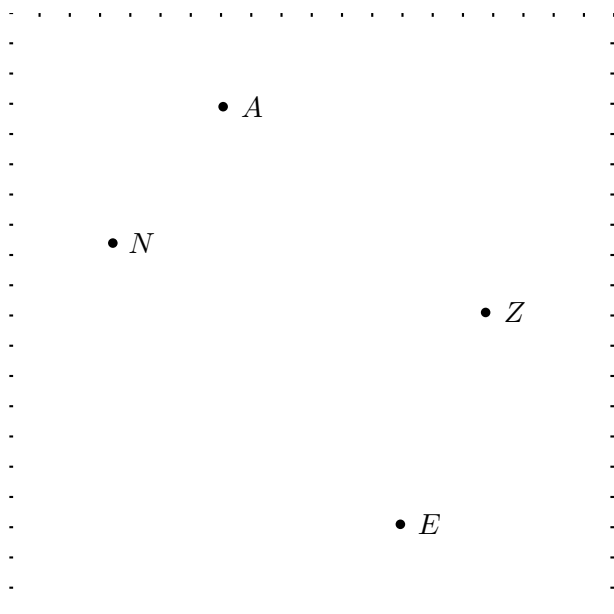
**Exercice 1**

Compléter :

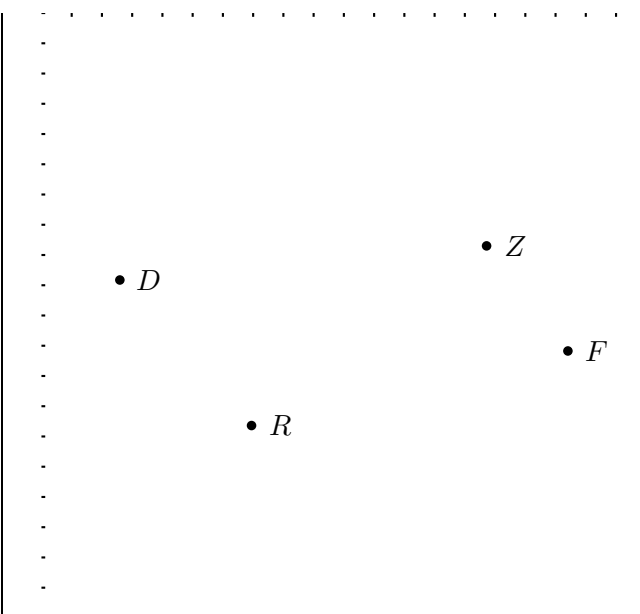
Nom	Catégorie	Figure
.....	.....	
.....	.....	
[TE]	.....	
... DG ...	droite	
[ZY]	.....	

**Exercice 2**

Réaliser les figures suivantes :



- ▶1. Tracer la droite parallèle à la droite (EA) passant par N
- ▶2. Tracer la droite perpendiculaire à la droite (ZE) passant par N



- ▶1. Tracer la droite parallèle à la droite (ZR) passant par F
- ▶2. Tracer la droite perpendiculaire à la droite (ZD) passant par R

**Exercice 3**

Compléter le tableau suivant :

Les droites en gras sont parallèles.

Données	Figure codée	Propriété	Conclusion
$(BE) // (NP)$ et $(BE) // (TW)$			
$(d_2) // (d_1)$ et $(d_2) \perp (d_3)$			
$(d_2) \perp (d_3)$ et $(d_1) \perp (d_3)$			