

♥ Dogs and cats.

Dogs and cats (Chiens et chats)

Fatma et Khadija jouent ensemble à Dogs and cats (Une variante d'un jeu ancien appelé "Bulls and Cows" qui est l'ancêtre du célèbre Mastermind)

Fatma a choisi une combinaison de quatre chiffres (entre 0 et 9) et tente de la faire deviner à Khadija.

A chaque essai de Khadija, Fatma répond par un dessin :


- Pour chaque chiffre bien placé, Fatma dessine un chien.
- Pour chaque chiffre mal placé, Fatma dessine un chat.

Voici le début de la partie, la combinaison est maintenant trouvable, à toi de jouer !


6066




6183



2163



6132



(C) <https://site2wouf.fr> (2021)

♥ Dogs and cats. - Correction -

Dogs and cats (Chiens et chats)

La combinaison était 6213

(C) <https://site2wouf.fr> (2021)