

♥ Dogs and cats.

Dogs and cats (Chiens et chats)

Étienne et Yvette jouent ensemble à Dogs and cats (Une variante d'un jeu ancien appelé "Bulls and Cows" qui est l'ancêtre du célèbre Mastermind)


Étienne a choisi une combinaison de quatre chiffres (entre 0 et 9) et tente de la faire deviner à Yvette.

A chaque essai de Yvette, Étienne répond par un dessin :

- Pour chaque chiffre bien placé, Étienne dessine un chien.
- Pour chaque chiffre mal placé, Étienne dessine un chat.

Voici le début de la partie, la combinaison est maintenant trouvable, à toi de jouer !


3707




4710



1403



7405



(C) <https://site2wouf.fr> (2021)

♥ Dogs and cats. - Correction -

Dogs and cats (Chiens et chats)

La combinaison était 1477

