

♥ Dogs and cats.

Dogs and cats (Chiens et chats)

Rodolphe et Fermin jouent ensemble à Dogs and cats (Une variante d'un jeu ancien appelé "Bulls and Cows" qui est l'ancêtre du célèbre Mastermind)


Rodolphe a choisi une combinaison de quatre chiffres (entre 0 et 9) et tente de la faire deviner à Fermin.

A chaque essai de Fermin, Rodolphe répond par un dessin :


- Pour chaque chiffre bien placé, Rodolphe dessine un chien.
- Pour chaque chiffre mal placé, Rodolphe dessine un chat.

Voici le début de la partie, la combinaison est maintenant trouvable, à toi de jouer !


5020




2750



3002



1002



<https://site2wouf.fr> (2021)

♥ Dogs and cats. - Correction -

Dogs and cats (Chiens et chats)

La combinaison était 3005

(C) <https://site2wouf.fr> (2021)