

## ♥ Dogs and cats.

### Dogs and cats (Chiens et chats)

Romaine et Haroun jouent ensemble à Dogs and cats (Une variante d'un jeu ancien appelé "Bulls and Cows" qui est l'ancêtre du célèbre Mastermind)


Romaine a choisi une combinaison de quatre chiffres (entre 0 et 9) et tente de la faire deviner à Haroun.

A chaque essai de Haroun, Romaine répond par un dessin :


- Pour chaque chiffre bien placé, Romaine dessine un chien.
- Pour chaque chiffre mal placé, Romaine dessine un chat.

Voici le début de la partie, la combinaison est maintenant trouvable, à toi de jouer !


5657



5691



4652



1647



(C) <https://site2wouf.fr> (2021)

## ♥ Dogs and cats. - Correction -

### Dogs and cats (Chiens et chats)

La combinaison était 2617

