

## ♥ Dogs and cats.

### Dogs and cats (Chiens et chats)

Sharif et Alain jouent ensemble à Dogs and cats (Une variante d'un jeu ancien appelé "Bulls and Cows" qui est l'ancêtre du célèbre Mastermind)

Sharif a choisi une combinaison de quatre chiffres (entre 0 et 9) et tente de la faire deviner à Alain.

A chaque essai de Alain, Sharif répond par un dessin :


- Pour chaque chiffre bien placé, Sharif dessine un chien.
- Pour chaque chiffre mal placé, Sharif dessine un chat.

**Voici le début de la partie, la combinaison est maintenant trouvable, à toi de jouer !**


3838




0846



4865



3406



(C) <https://site2wouf.fr> (2021)

## ♥ Dogs and cats. - Correction -

### Dogs and cats (Chiens et chats)

La combinaison était 0408

(C) <https://site2wouf.fr> (2021)