

♥ Dogs and cats.

Dogs and cats (Chiens et chats)

Marc et Fatma jouent ensemble à Dogs and cats (Une variante d'un jeu ancien appelé "Bulls and Cows" qui est l'ancêtre du célèbre Mastermind)


Marc a choisi une combinaison de quatre chiffres (entre 0 et 9) et tente de la faire deviner à Fatma.

A chaque essai de Fatma, Marc répond par un dessin :


- Pour chaque chiffre bien placé, Marc dessine un chien.
- Pour chaque chiffre mal placé, Marc dessine un chat.

Voici le début de la partie, la combinaison est maintenant trouvable, à toi de jouer !

4543




4158



0144



4401



(C) <https://site2wouf.fr> (2021)

♥ Dogs and cats. - Correction -

Dogs and cats (Chiens et chats)

La combinaison était 4410

