

## ♥ Dogs and cats.

### Dogs and cats (Chiens et chats)

Adélaïde et Jérémie jouent ensemble à Dogs and cats (Une variante d'un jeu ancien appelé "Bulls and Cows" qui est l'ancêtre du célèbre Mastermind)


Adélaïde a choisi une combinaison de quatre chiffres (entre 0 et 9) et tente de la faire deviner à Jérémie.

A chaque essai de Jérémie, Adélaïde répond par un dessin :


- Pour chaque chiffre bien placé, Adélaïde dessine un chien.
- Pour chaque chiffre mal placé, Adélaïde dessine un chat.

**Voici le début de la partie, la combinaison est maintenant trouvable, à toi de jouer !**


2693



0246



0836



(C) <https://site2wouf.fr> (2021)

## ♥ Dogs and cats. - Correction -

### Dogs and cats (Chiens et chats)

La combinaison était 8346

(C) <https://site2wouf.fr> (2021)