

## ♥ Dogs and cats.

### Dogs and cats (Chiens et chats)

Mustafa et Geoffroi jouent ensemble à Dogs and cats (Une variante d'un jeu ancien appelé "Bulls and Cows" qui est l'ancêtre du célèbre Mastermind)

Mustafa a choisi une combinaison de quatre chiffres (entre 0 et 9) et tente de la faire deviner à Geoffroi.

A chaque essai de Geoffroi, Mustafa répond par un dessin :


- Pour chaque chiffre bien placé, Mustafa dessine un chien.
- Pour chaque chiffre mal placé, Mustafa dessine un chat.

**Voici le début de la partie, la combinaison est maintenant trouvable, à toi de jouer !**


6673




4217



4587



4807



(C) <https://site2wouf.fr> (2021)

## ♥ Dogs and cats. - Correction -

### Dogs and cats (Chiens et chats)

La combinaison était 4057

