

## ♥ Dogs and cats.

### Dogs and cats (Chiens et chats)

Farida et Trinidad jouent ensemble à Dogs and cats (Une variante d'un jeu ancien appelé "Bulls and Cows" qui est l'ancêtre du célèbre Mastermind)


Farida a choisi une combinaison de quatre chiffres (entre 0 et 9) et tente de la faire deviner à Trinidad.

A chaque essai de Trinidad, Farida répond par un dessin :

- Pour chaque chiffre bien placé, Farida dessine un chien.
- Pour chaque chiffre mal placé, Farida dessine un chat.

**Voici le début de la partie, la combinaison est maintenant trouvable, à toi de jouer !**


3414




6424



3004



3438



(C) <https://site2wouf.fr> (2021)

## ♥ Dogs and cats. - Correction -

### Dogs and cats (Chiens et chats)

La combinaison était 3483

