

♥ Dogs and cats.

Dogs and cats (Chiens et chats)

Lope et Philippine jouent ensemble à Dogs and cats (Une variante d'un jeu ancien appelé "Bulls and Cows" qui est l'ancêtre du célèbre Mastermind)


Lope a choisi une combinaison de quatre chiffres (entre 0 et 9) et tente de la faire deviner à Philippine.

A chaque essai de Philippine, Lope répond par un dessin :


- Pour chaque chiffre bien placé, Lope dessine un chien.
- Pour chaque chiffre mal placé, Lope dessine un chat.

Voici le début de la partie, la combinaison est maintenant trouvable, à toi de jouer !


4051




5089



8156



8521



(C) <https://site2wouf.fr> (2021)

Dogs and cats (Chiens et chats)

La combinaison était 1558

<https://site2wouf.fr> (2021)