

♥ Dogs and cats.

Dogs and cats (Chiens et chats)

Félicie et Gigi jouent ensemble à Dogs and cats (Une variante d'un jeu ancien appelé "Bulls and Cows" qui est l'ancêtre du célèbre Mastermind)


Félicie a choisi une combinaison de quatre chiffres (entre 0 et 9) et tente de la faire deviner à Gigi.

A chaque essai de Gigi, Félicie répond par un dessin :


- Pour chaque chiffre bien placé, Félicie dessine un chien.
- Pour chaque chiffre mal placé, Félicie dessine un chat.

Voici le début de la partie, la combinaison est maintenant trouvable, à toi de jouer !


8891



8889



1894



(C) <https://site2wouf.fr> (2021)

♥ Dogs and cats. - Correction -

Dogs and cats (Chiens et chats)

La combinaison était 9841

(C) <https://site2wouf.fr> (2021)