

♥ Dogs and cats.

Dogs and cats (Chiens et chats)

Olympe et Paulette jouent ensemble à Dogs and cats (Une variante d'un jeu ancien appelé "Bulls and Cows" qui est l'ancêtre du célèbre Mastermind)


Olympe a choisi une combinaison de quatre chiffres (entre 0 et 9) et tente de la faire deviner à Paulette.

A chaque essai de Paulette, Olympe répond par un dessin :


- Pour chaque chiffre bien placé, Olympe dessine un chien.
- Pour chaque chiffre mal placé, Olympe dessine un chat.

Voici le début de la partie, la combinaison est maintenant trouvable, à toi de jouer !


4832



0253



5043



5280



(C) <https://site2wouf.fr> (2021)

♥ Dogs and cats. - Correction -

Dogs and cats (Chiens et chats)

La combinaison était 2058

(C) <https://site2wouf.fr> (2021)