

♥ Dogs and cats.

Dogs and cats (Chiens et chats)

Maxime et Diego jouent ensemble à Dogs and cats (Une variante d'un jeu ancien appelé "Bulls and Cows" qui est l'ancêtre du célèbre Mastermind)


Maxime a choisi une combinaison de quatre chiffres (entre 0 et 9) et tente de la faire deviner à Diego.

A chaque essai de Diego, Maxime répond par un dessin :


- Pour chaque chiffre bien placé, Maxime dessine un chien.
- Pour chaque chiffre mal placé, Maxime dessine un chat.

Voici le début de la partie, la combinaison est maintenant trouvable, à toi de jouer !


2111




0511



8311



9811



(C) <https://site2wouf.fr> (2021)

♥ Dogs and cats. - Correction -

Dogs and cats (Chiens et chats)

La combinaison était 3911

