

## ♥ Dogs and cats.

### Dogs and cats (Chiens et chats)

Stéphane et Valère jouent ensemble à Dogs and cats (Une variante d'un jeu ancien appelé "Bulls and Cows" qui est l'ancêtre du célèbre Mastermind)


Stéphane a choisi une combinaison de quatre chiffres (entre 0 et 9) et tente de la faire deviner à Valère.

A chaque essai de Valère, Stéphane répond par un dessin :


- Pour chaque chiffre bien placé, Stéphane dessine un chien.
- Pour chaque chiffre mal placé, Stéphane dessine un chat.

Voici le début de la partie, la combinaison est maintenant trouvable, à toi de jouer !


6460




4516



4796



4736



(C) <https://site2wouf.fr> (2021)

## ♥ Dogs and cats. - Correction -

### Dogs and cats (Chiens et chats)

La combinaison était 4396

