

♥ Dogs and cats.

Dogs and cats (Chiens et chats)

Ahmad et Farouk jouent ensemble à Dogs and cats (Une variante d'un jeu ancien appelé "Bulls and Cows" qui est l'ancêtre du célèbre Mastermind)

Ahmad a choisi une combinaison de quatre chiffres (entre 0 et 9) et tente de la faire deviner à Farouk.

A chaque essai de Farouk, Ahmad répond par un dessin :


- Pour chaque chiffre bien placé, Ahmad dessine un chien.
- Pour chaque chiffre mal placé, Ahmad dessine un chat.

Voici le début de la partie, la combinaison est maintenant trouvable, à toi de jouer !


5176




9081



9818



9210



(C) <https://site2wouf.fr> (2021)

Dogs and cats (Chiens et chats)

La combinaison était 2018

<https://site2wouf.fr> (2021)