

♥ Dogs and cats.

Dogs and cats (Chiens et chats)

Fermin et Salomé jouent ensemble à Dogs and cats (Une variante d'un jeu ancien appelé "Bulls and Cows" qui est l'ancêtre du célèbre Mastermind)

Fermin a choisi une combinaison de quatre chiffres (entre 0 et 9) et tente de la faire deviner à Salomé.

A chaque essai de Salomé, Fermin répond par un dessin :


- Pour chaque chiffre bien placé, Fermin dessine un chien.
- Pour chaque chiffre mal placé, Fermin dessine un chat.

Voici le début de la partie, la combinaison est maintenant trouvable, à toi de jouer !


0290




8565



3653



5833



(C) <https://site2wouf.fr> (2021)

♥ Dogs and cats. - Correction -

Dogs and cats (Chiens et chats)

La combinaison était 6833

(C) <https://site2wouf.fr> (2021)