

## ♥ Dogs and cats.

### Dogs and cats (Chiens et chats)

Adèle et Joël jouent ensemble à Dogs and cats (Une variante d'un jeu ancien appelé "Bulls and Cows" qui est l'ancêtre du célèbre Mastermind)

Adèle a choisi une combinaison de quatre chiffres (entre 0 et 9) et tente de la faire deviner à Joël.

A chaque essai de Joël, Adèle répond par un dessin :


- Pour chaque chiffre bien placé, Adèle dessine un chien.
- Pour chaque chiffre mal placé, Adèle dessine un chat.

**Voici le début de la partie, la combinaison est maintenant trouvable, à toi de jouer !**


9010




3448



2243



5437



<https://site2wouf.fr> (2021)

## ♥ Dogs and cats. - Correction -

### Dogs and cats (Chiens et chats)

La combinaison était 7435

<https://site2wouf.fr> (2021)