

♥ Dogs and cats.

Dogs and cats (Chiens et chats)

Albertine et Zacharie jouent ensemble à Dogs and cats (Une variante d'un jeu ancien appelé "Bulls and Cows" qui est l'ancêtre du célèbre Mastermind)


Albertine a choisi une combinaison de quatre chiffres (entre 0 et 9) et tente de la faire deviner à Zacharie.

A chaque essai de Zacharie, Albertine répond par un dessin :


- Pour chaque chiffre bien placé, Albertine dessine un chien.
- Pour chaque chiffre mal placé, Albertine dessine un chat.

Voici le début de la partie, la combinaison est maintenant trouvable, à toi de jouer !

0479




4327



4731



7384



(C) <https://site2wouf.fr> (2021)

♥ Dogs and cats. - Correction -

Dogs and cats (Chiens et chats)

La combinaison était 7348

(C) <https://site2wouf.fr> (2021)