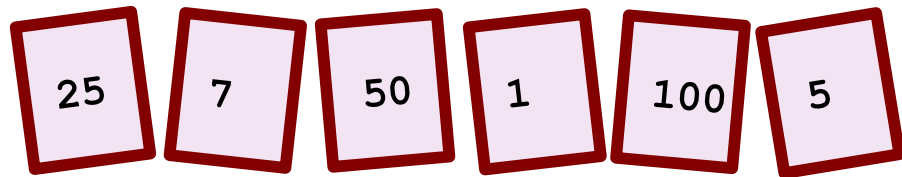


♥ Jouons ensemble.


Jeu 1 :

Le compte est bon ! et vous ?



Jeu 2:

Trouve le mot Mathématique caché !



♥ Jouons ensemble.- Correction -

Jeu 1 :

Le compte est bon ! et vous ?




Mes solutions :

- $594 = 7 \times (100 + 50/5 - 25) - 1$
- $594 = (100/25 + 7) \times (50 + 5 - 1)$
- $594 = (50 + 100/25) \times (7 + 5 - 1)$
- $594 = 7 \times (100 - (50 + 25)/5) - 1$
- $594 = 25 \times (7 + 5) \times (100 - 1)/50$

Jeu 2:

Trouve le mot Mathématique caché !



La solution : TANGENTE

Dans un triangle rectangle, la tangente d'un angle est le rapport de la longueur du côté opposé par la longueur du côté adjacent.